



我们两人一共买了40枝。

我们两人一共买了46枝。



平均每个男孩买多少枝？

$$40 \div 2 = \underline{\quad} (\quad)$$

你是怎样算的？和小组里的同学交流。



平均每个女孩买多少枝？

$$46 \div 2 = \underline{\quad} (\quad)$$

每人先分得2捆，是20枝；再分得3枝，合起来是23枝。



$$\begin{aligned} 40 \div 2 &= 20 \\ 6 \div 2 &= 3 \\ 20 + 3 &= 23 \end{aligned}$$



还可以用竖式计算。

$$\begin{array}{r} 23 \\ 2 \overline{) 46} \\ \underline{4} \\ 6 \\ \underline{6} \\ 0 \end{array}$$

2为什么写在商的十位上？





想想做做

1. $6 \div 3$ $8 \div 2$ $9 \div 3$ $5 \div 5$
 $60 \div 3$ $80 \div 2$ $90 \div 3$ $50 \div 5$

2.

$\begin{array}{r} \square \square \\ 3 \overline{) 96} \\ \square \\ \hline \square \\ \square \\ \hline \square \end{array}$	$\begin{array}{r} \square \square \\ 3 \overline{) 95} \\ \square \\ \hline \square \\ \square \\ \hline \square \end{array}$	$\begin{array}{r} \square \\ 4 \overline{) 84} \end{array}$	$\begin{array}{r} \square \\ 4 \overline{) 87} \end{array}$
--------------------------------------------------------------------------------------------------------------------------------------------------------------------------------------------------------------------	--------------------------------------------------------------------------------------------------------------------------------------------------------------------------------------------------------------------	--------------------------------------------------------------------------------------	--------------------------------------------------------------------------------------

3. 用竖式计算。


$24 \div 2$ $68 \div 2$ $57 \div 5$ $89 \div 4$

4. 39个同学在操场上跳绳。



每3人一组，可以分成几组？

5. 哪种树苗每棵的价钱贵一些？




4棵杨树苗 48元




3棵松树苗 63元





(1) 36元可以买多少块  ?

$36 \div 3 = 12$ (块),
36元可以买12块。

算得对吗? 

我用乘法验算。

$$\begin{array}{r} 12 \\ \times 3 \\ \hline 36 \end{array}$$




(2) 65元可以买多少块 , 还剩多少元?

$65 \div 3 = 21$ (块) 2 (元),
65元可以买21块, 还剩2元。

你能帮  验算吗? 

每块3元, 21块是63元, 再加上剩下的2元, 正好是65元。


我是这样验算的。
$$\begin{array}{r} 21 \\ \times 3 \\ \hline 63 \\ + 2 \\ \hline 65 \end{array}$$
 



想想做做

1.



先算一算，再看看每组中的两道题有什么联系。

$$96 \div 3$$

$$32 \times 3$$

$$86 \div 4$$

$$21 \times 4 + 2$$

$$47 \div 2$$

$$23 \times 2 + 1$$

2. 用竖式计算，并验算。

$$64 \div 2$$

$$55 \div 5$$

$$47 \div 4$$

$$68 \div 6$$

3. 口算下面各题。

(1) $20 \div 2$

$60 \div 3$

$80 \div 2$

$26 \div 2$

$69 \div 3$

$84 \div 2$

(2) $93 \div 3$

$86 \div 2$

$44 \div 4$

31×3

43×2

4×11

4.



每辆车用4个轮子。

45个轮子，最多可以装几辆车？



5. 48人打乒乓球。



(1) 如果都参加单打，可以分成几组？

(2) 你还能提出什么问题？



练习一

1. 口算下面各题。

$22 \div 2$

$63 \div 3$

$88 \div 4$

$90 \div 9$

$36 \div 3$

$68 \div 2$

$60 \div 2$

$77 \div 7$

2. 用竖式计算，并验算。

$39 \div 3$

$89 \div 4$

$67 \div 2$

$98 \div 3$

3. 红岗小学三年级某小队3个组收集废电池情况如下表。

	第一组	第二组	第三组
人 数	3	4	3
收集的总节数	69	84	66
平均每人收集的节数			



哪个组平均每人收集的节数多？

4.



我们班有48人，
分成4组。

平均每组有多少人？
全班需要多少张课桌？



5.






老师	学生	合计
5人	91人	()人

平均每辆车要
坐多少人？



6.




每根自来水管长5米，至少要用多少根这样的水管才能从  铺到  ？

7.



8.



在 里填上合适的数字。

$$\square \square \div 3 = 23$$

$$\square \square \div \square = 21$$

1



$$52 \div 2 = \underline{\quad} (\quad)$$

先分给每班2筒，是20个；余下12个，每班再分得6个。每班共分到26个。



还可以用竖式计算。

$$\begin{array}{r}
 2 \square \\
 2 \overline{) 52} \\
 \underline{4} \\
 \square \square \\
 \underline{} \\
 \square
 \end{array}$$

接下去该怎样算？先互相说一说，再把题做完。



验算一下，看看算得对不对。



想想做做

1.
$$\begin{array}{r} \square \square \\ 3 \overline{) 78} \\ \square \\ \hline \square \square \\ \square \square \\ \hline \square \end{array}$$

$$\begin{array}{r} \square \square \\ 6 \overline{) 84} \\ \square \\ \hline \square \square \\ \square \square \\ \hline \square \end{array}$$

$$\begin{array}{r} \square \\ 2 \overline{) 92} \\ \square \\ \hline \end{array}$$

$$\begin{array}{r} \square \\ 5 \overline{) 80} \\ \square \\ \hline \end{array}$$

2. 用竖式计算，并验算。

$96 \div 8$

$84 \div 3$

$74 \div 2$

$66 \div 5$

$48 \div 4$

$64 \div 2$

$75 \div 3$

$96 \div 6$

$48 \div 3$

$64 \div 4$

$77 \div 3$

$99 \div 6$

4.

航模组一共有60人。

如果每5人一组呢？

每4人一组，可以分成多少组？

5.



56元



4元



2元

你能提出哪些用除法计算的问题？

6.



你能估计出下面各题的商是几十多吗？

$64 \div 5$

$85 \div 3$

$95 \div 4$

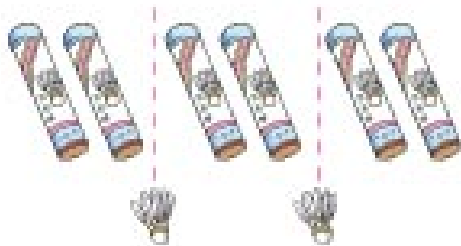
$91 \div 2$



平均分给3个班，每班能分到多少个？

$$62 \div 3 = \underline{\quad} (\quad) \quad \underline{\quad} (\quad)$$

每个班只能分到2筒，是20个。还剩下2个，不能再分了。



还可以用竖式计算。

$$\begin{array}{r} 20 \\ 3 \overline{) 62} \\ \underline{6} \\ 2 \end{array}$$

商的个位上为什么要写0？把你的想法在小组里说一说。



验算一下，看看算得对不对。



想想做做

1.

$$\begin{array}{r} \square \square \\ 4 \overline{) 83} \\ \underline{} \\ \square \\ \underline{} \\ \square \end{array}$$

$$6 \overline{) 63}$$

$$3 \overline{) 92}$$

$$2 \overline{) 61}$$

2. $42 \div 2$
 $41 \div 2$

$63 \div 5$
 $53 \div 5$

你会算一算比一比吗?



3.  先找出错在哪里,再改正过来。

$$\begin{array}{r} 4 \\ 2 \overline{) 81} \\ \underline{8} \\ 1 \end{array}$$

$$\begin{array}{r} 10 \\ 5 \overline{) 90} \\ \underline{5} \\ 4 \end{array}$$

$$\begin{array}{r} 20 \\ 3 \overline{) 72} \\ \underline{6} \\ 2 \end{array}$$

4. 计算下面各题,并验算。

$91 \div 3$

$71 \div 2$

$59 \div 4$

$45 \div 3$

$76 \div 5$

$75 \div 7$

5. 一本《故事大王》共有64页。



我4天看完这本书。



我准备6天看完这本书。

(1)  平均每天看多少页?

(2)  每天应看多少页,你能帮她安排一下吗?

6. 3位老师带着62位学生去郊游。



每顶帐篷最多只能住6人。

至少要搭多少顶帐篷?