



一	认识乘法	1
二	乘法口诀（一）	7
●	快乐的队日活动	24
三	认识图形	26
●	有趣的七巧板	28
四	认识除法	30
五	口诀求商（一）	42






六	厘米和米	48
●	量一量	54
七	位置与方向	56
八	乘法口诀和口诀求商（二）	62
●	算“24点”	86
九	时、分、秒	88
十	观察物体	94
十一	统计与可能性	96
●	田园风光	102
十二	期末复习	104



一 认识乘法



兔一共有多少只？鸡呢？

兔的只数：

鸡的只数：

$$2 + 2 + 2 = 6 \text{ (只)} \quad 3 + 3 + 3 + 3 = 12 \text{ (只)}$$



3个2相加得6，
兔有6只。

4个3相加得12，
鸡有12只。



试一试

摆一摆，填一填。

(1)

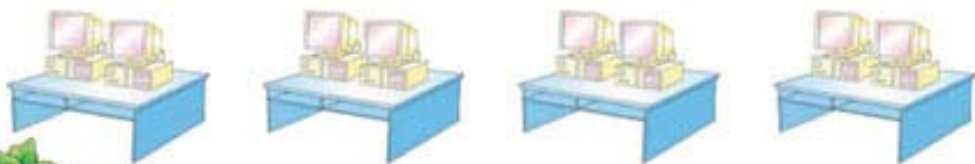
$$\square + \square + \square + \square + \square = \square$$

() 个 () 相加得 ()。

(2)

$$\square + \square + \square = \square$$

() 个 () 相加得 ()。



一共有多少台电脑？



2, 4, 6, 8。
一共有8台。

$$2 + 2 + 2 + 2 = 8$$



还可以用乘法算。



4个2相加，可以写成：

$$4 \times 2 = 8 \quad \text{或} \quad 2 \times 4 = 8$$

⋮

乘号

⋮

乘数 乘数 积

4×2 读作“4乘2”， 2×4 读作“2乘4”。



试一试



() 个4

加法算式： $\square + \square + \square + \square + \square = \square$

乘法算式： $\square \times \square = \square$ 或 $\square \times \square = \square$

求5个4的和是多少，哪种写法比较简便？





想想做做

1.



() 个 2

加法算式:

$$\square + \square + \square = \square$$

乘法算式:

$$\square \times \square = \square$$

$$\text{或 } \square \times \square = \square$$

2.



() 个 5

加法算式:

$$\square + \square = \square$$

乘法算式:

$$\square \times \square = \square$$

$$\text{或 } \square \times \square = \square$$

3.

先用 \bullet 摆一摆, 再写算式。

(1) 每堆摆 2 个, 摆 4 堆。

加法算式: _____

$$\text{乘法算式: } \square \times \square = \square \text{ 或 } \square \times \square = \square$$

(2) 每堆摆 4 个, 摆 2 堆。

加法算式: _____

$$\text{乘法算式: } \square \times \square = \square \text{ 或 } \square \times \square = \square$$

4. 读乘法算式, 再说乘数和积各是多少。

$$3 \times 5 = 15$$

$$6 \times 4 = 24$$

$$2 \times 7 = 14$$

5. 4 乘 5 写作 () \times (), 5 乘 4 写作 () \times ()。



练习一

1. 用 / 摆一摆。

3 个 2



2 个 5

5 个 2

2. (1)



() 个 ()

加法算式: _____

乘法算式: × = 或 × =

(2)

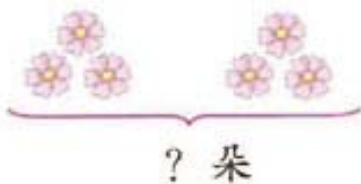


() 个 ()

加法算式: _____

乘法算式: × = 或 × =

3.



() 个 () 相加

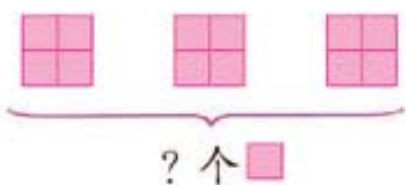
$$\square \times \square = \square$$



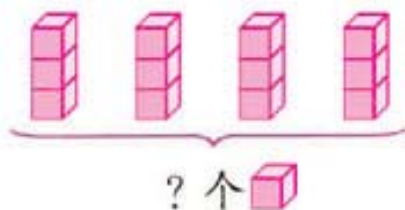
() 个 () 相加

$$\square \times \square = \square$$

4.



$$\square \times \square = \square$$



$$\square \times \square = \square$$

5. 写出乘法算式, 再读一读。

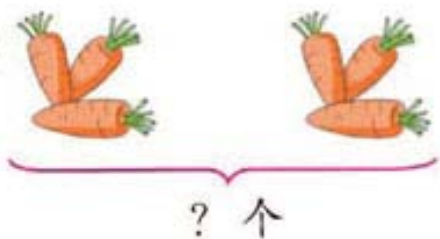
2 个 4 相加 _____


5 乘 6 _____

6 个 3 相加 _____

2 乘 5 _____

6. (1)




每堆有 () 个 ,

有 () 堆,

一共有 () 个。

$$\square \times \square = \square$$

(2)



每盘有 () 个 ,

有 () 盘,

一共有 () 个。

$$\square \times \square = \square$$

7.



一共有多少个桃？



$$\square \times \square = \square \quad (\quad)$$

8.



买这3只玩具狗一共要用多少元？



$$\square \times \square = \square \quad (\quad)$$

9. 把加法算式改写成乘法算式。

$$5 + 5 + 5 + 5 = \square \times \square$$

$$6 + 6 = \square \times \square$$

$$2 + 2 + 2 + 2 + 2 + 2 = \square \times \square$$


10.




$$\square \times \square = \square$$

二 乘法口诀(一)



1个  坐2人 $1 \times 2 = 2$

2个  坐4人 $2 \times 2 = 4$

一二得二

二二得四





想一想


$$2 \times 1 = \square$$

用哪一句口诀?



1只  坐3人 $1 \times 3 = 3$

2只  坐6人 $2 \times 3 = 6$

3只  坐9人 $3 \times 3 = 9$

一三得三

二三得六

三三得九



想一想

$$3 \times 1 = \square$$

$$3 \times 2 = \square$$



每个车厢里有4人, 2个车厢里有多少人? 3个、4个呢?



先画张表算一算。

车厢的个数	1	2	3	4
人数	4	8	12	16

可以编出乘法口诀。



1个4

$1 \times 4 = 4$

一四得四

2个4相加

$2 \times 4 = 8$

二四得八

3个4相加

$3 \times 4 = 12$

三四十二

4个4相加

$4 \times 4 = \square$

四四()



想一想

$4 \times 1 = \square$

$4 \times 2 = \square$

$4 \times 3 = \square$



试一试

$1 \times 1 = \square$

一一得()



想想做做

1. 先用 / 摆一摆, 再填一填。

$$3 + 3 = 2 \times 3 = \square$$

口诀: 二三得 ()



$$2 + 2 = \square \times \square = \square$$

二二得 ()

$$4 + 4 + 4 = \square \times \square = \square$$

三四 ()

2. 看图写出两道乘法算式和一句口诀。



口诀: ()

3.



4. 连一连。



5. 背出 1~4 的乘法口诀。

6. $2 \times 4 =$ $1 \times 3 =$ $4 \times 3 =$ $2 \times 2 =$
 $1 \times 2 =$ $3 \times 4 =$ $1 \times 4 =$ $2 \times 3 =$
 $4 \times 4 =$ $3 \times 2 =$ $3 \times 3 =$ $4 \times 2 =$

7. $4 \times 1 =$ $2 \times 2 =$ $3 \times 2 =$ $4 \times 4 =$
 $4 + 1 =$ $2 + 2 =$ $3 + 2 =$ $4 + 4 =$


8. 在 ○ 里填上 “>” “<” 或 “=”。

$3 \times 1 \bigcirc 4$ $2 \times 2 \bigcirc 4$ $2 \times 4 \bigcirc 6$


9. $3 \times \square = \square$ $\square \times 4 = \square$ $\square \times \square = 4$

10.



(1) 坐  的一共有多少人?

$\square \bigcirc \square = \square$ ()

(2) 坐  的一共有多少人?

$\square \bigcirc \square = \square$ ()

(3) 走  的一共有多少人?

$\square \bigcirc \square = \square$ ()